

B) Ix-Xogħol. Aghmel sing taht il-kelma t-tajba.


(10 marki)

Eż: (Il-qassis, Il-gwida, Il-mastrudaxxa) jaħdem mat-turisti.

1. Fost ix-xogħlijiet marbuta mal-kampanja nsibu dak (tal-landier, tal-bidwi, tax-xufier tat-taxi).
2. Kull haddiem għandu dritt (li jkollu paga xierqa, għal safra kull xahar, li jirċievi rigal f'għeluq sninu).
3. (Il-perit, Il-bidwi, Il-ballata tal-bjut) huwa xogħol li spiċċa għal kollox.
4. Sengħa li tinvolvi paċenzja bl-idejn hija dik (tal-ganutell, tal-għalliem, tal-bejjiegh tal-monti).
5. Ġo qasam industrijali nsibu ħafna (djar, ġonna, fabbriki) miġbura hdejn xulxin.
6. (L-għalliem, il-pilota, ix-xufier tal-linja) jgħallmek tikteb u taqra.
7. Jekk tkun (aġent tal-ivjaġġar, *barman*, skrivan), jista' jkun li taħdem mal-gvern.
8. (Bennej, Kok, Avukat) normalment jaħdem aktar barra milli ġewwa.
9. Ix-xogħol ta' (ħaddied, elektrixin, *care-worker*) huwa meqjus bħala xogħol li fih jingħata servizz ta' kura.
10. (Il-fisjoterapista, Il-gwida tat-turisti, Il-messaġġier) huwa xogħol fil-qasam tas-saħħa.



Illustration by Chris Gash



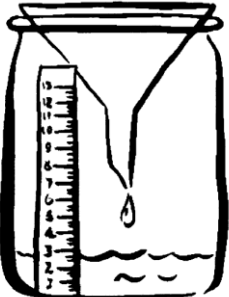
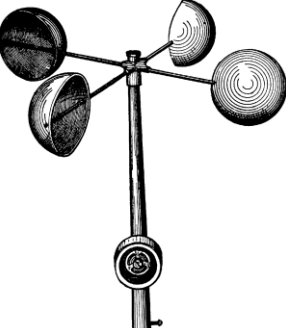


Ċ) Ix-Xogħol. Ikteb in-numru fil-kaxxi biex tqabbel ix-xogħlijiet mad-dmirijiet tagħhom. L-ewwel waħda hija lesta. (7 marki)

Xogħol		Id-dmirijiet
1. Il-bidwi		jaqbad il-ħut.
2. Il-kok		jibni d-djar skont il-pjanta li jkollu.
3. Ix-xufier tal-linja		jipprepara ikel tajeb u frisk.
4. Is-sajjied		jagħti informazzjoni dwar il-postijiet ta' interess.
5. L-infermier		jwassal il-passiġġieri fil-ħin fid-destinazzjoni.
6. Il-gwida tat-turisti	1	jkabbar il-ħaxix u l-frott.
7. Il-bennej		ibigh il-medicina skont ir-ricetta tat-tabib.
8. L-ispiżjar		jieħu ħsieb nies li jkunu morda.



D) It-Temp. Imla l-vojt dwar dawn l-istrumenti tat-temp. (8 marki)

<p>1.</p> 	<p>Jien _____.</p> <p>Jien nurik _____.</p> <p>_____.</p>
<p>2.</p> 	<p>Jien _____.</p> <p>Jien nurik _____.</p> <p>_____.</p>
<p>3.</p> 	<p>Jien _____.</p> <p>Jien nurik _____.</p> <p>_____.</p>
<p>4.</p> 	<p>Jien _____.</p> <p>Jien nurik _____.</p> <p>_____.</p>

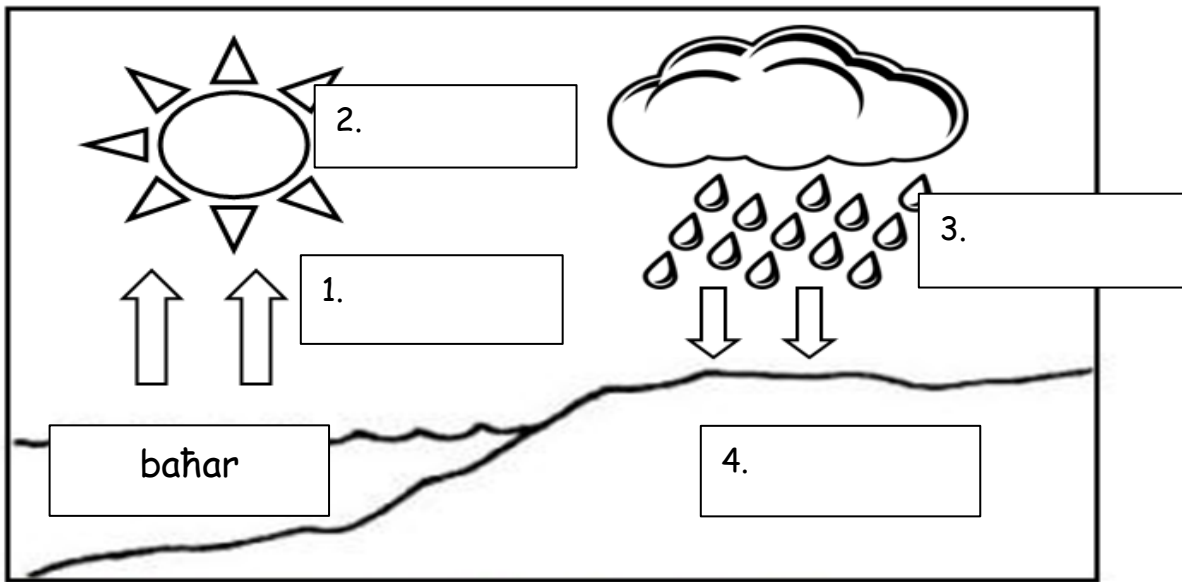
E) It-Temp. Ikteb Veru jew Falz.*(10 marki)*

<i>Eż: It-temp jinbidel skont l-istaġuni.</i>	Veru
1. Il-boxxla turina d-direzzjoni u tħares dejjem lejn in-Nofsinhar.	
2. Temperatura ta' 8 gradi Celsius hija temperatura tar-rebbiegħa.	
3. Riħ li jonfoħ mill-Majjistral huwa riħ kiesaħ.	
4. It-tbassir tat-temp joħroġ mill-Uffiċċju Meteoroloġiku.	
5. Fis-sajf tagħmel ħafna sħana u l-ġurnata tiqsar.	
6. Ċikluni, tifuni u urugani huma maltempati kbar b'ħafna xita u riħ.	
7. Ammont kbir ta' xita li jinżel għal hin twil jissejjaħ tromba.	
8. Meta tagħmel nixfa kbira jkollna ħafna aktar frott mis-soltu.	
9. Jekk it-temperatura tal-arja togħla jkollna kesħa kbira.	
10. Meta l-għelieqi jkunu fuq għolja, il-bdiewa jagħmluhom imtarrġin biex il-ħamrija ma tintilifx u ma titkaxkarx mal-ilma tax-xita.	



F) It-Temp. Ғares lejn l-istampa u imla l-kaxxi sew.

(4 marki)



Ġ) It-Temp. Imla l-vojt mill-kliem li ġej.

(7 marki)

għelieqi	ix-xita	nixorbu	baħar
jevapora	bjar	—widien—	shab

Eż: Ix-xemx tiġbor l-ilma mill-baħar, mill-għadajjar u mill-widien.

1. Il-fwar _____ 'l fuq u jsir _____.
2. Meta s-shab jitqal u ma jkunx jiflaħ iżomm iżjed, tagħmel _____.
3. L-ilma li jinżel jista' jsaqqi l-_____.
4. Xi ftit ilma jista' wkoll jingabar fil-_____ tad-djar tagħna.
5. Ғafna mix-xita li tagħmel f'Malta tispicċa fil-widien jew fil-_____.
6. L-ilma huwa importanti biex _____, ninħaslu, insaqqu u naqdu bżonnijiet oħrajn.

G) Il-Ħajja fil-Belt jew Raġal. Poġġi l-attivitajiet provduti hawn taħt fil-kolonna t-tajba.

(10 marki)

Nitgħallem il-kitarra

Nattendi l-iScouts

Immur il-Mużew

Inkanta mal-kor tal-knisja

Nipprattika l-ginnastika

Nattendi l-quddiesa


Nieġu sehem f'purċissjoni

Indoqq mal-banda tar-raġal

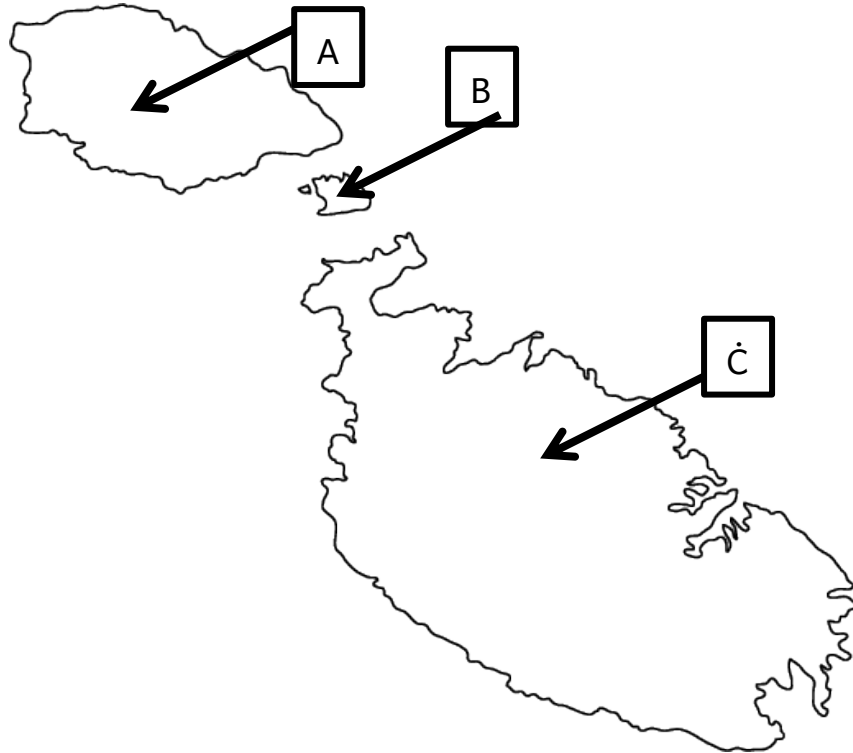
Nilgħab man-*nursery* tal-futbol

Ngħin fil-quddies bħala abbati

Attivitajiet Ċiviċi	Attivitajiet Reliġjużi



GĦ) Il-Ħajja fil-Belt jew Raġal. Imla l-vojt skont il-mappa. (6 marki)



1. Din hija l-_____ tal-Gżejjer Maltin.
2. Gżira A hija _____.
3. Gżira B hija _____.
4. Gżira Ċ hija _____.
5. Immarka X fuq il-mappa fejn jinsab ir-raġal jew il-belt tiegħek.
6. Fuq il-mappa ikteb l-isem fejn jinsab ir-raġal jew il-belt tiegħek.

Ħ) Il-Ħajja fil-Belt jew Raġal. Ikteb **ħames (5) sentenzi** dwar il-belt jew raġal tiegħek. *(10 marki)*
